






Kennzeichen des Lebens

1 Was zeichnet das Leben aus?

a Nenne die Kennzeichen des Lebens.

b Jedes der 5 Bilder unten verdeutlicht ein Kennzeichen des Lebens. Trage das passende Kennzeichen in die Felder neben dem Bild ein und setze aus den markierten Feldern ein Lösungswort zusammen.

-----			-----
-----			-----
-----		Lösungswort: -----	

3 Lebewesen oder nicht?

a Ergänze die Merkmale von Lebewesen in der linken Spalte. Fülle die Tabelle aus, indem du jeweils entscheidest, ob das Merkmal vorhanden ist oder nicht.

Kennzeichen	Maus	Spielzeugmaus	Auto	Mensch
Aktive Bewegung	ja			

b Entscheide und begründe, bei welchem Beispiel es sich nicht um ein Lebewesen handelt.
